

HISTOIRE DU QUÉBEC ET DU CANADA
MODULE 3
LA CONQUÊTE ET LES DÉBUTS
DU RÉGIME BRITANNIQUE

1. DURANT LA GUERRE DE LA CONQUÊTE, QUELLES ÉTAIENT LES DEUX RICHESSES CONVOITÉES PAR LES COLONIES ANGLAISES ?


1. Les territoires agricoles des Basses-terres du Saint-Laurent.
2. Les territoires de la vallée de l'Ohio.
3. Les régions minières du Bouclier canadien.
4. Les fourrures de la région des Grands Lacs.
5. Les régions forestières de l'Outaouais.

- A) 1 et 3 C) 2 et 4
B) 2 et 3 D) 4 et 5

2. Lorsque les Britanniques prennent en charge la Nouvelle-France, certains aspects de la vie des colons sont modifiés.

- Ils doivent rédiger les contrats et les testaments selon de nouvelles lois civiles.
- Ils n'ont plus l'exclusivité de la traite des fourrures dans la région des Grands Lacs.
- Ils ne peuvent plus devenir avocat ou fonctionnaire sans renier leur religion.

SUR LA LIGNE DU TEMPS, QUELLE LETTRE CORRESPOND À LA PÉRIODE PENDANT LAQUELLE CES RÈGLES ONT ÉTÉ EN VIGUEUR ?



3. QUELLE CONSÉQUENCE LA RÉVOLUTION AMÉRICAINE A-T-ELLE EMPORTÉE SUR LA PROVINCE OF QUEBEC ?

- A) La suprématie des marchands de Montréal sur le commerce des fourrures.
- B) L'établissement de Loyalistes dans la Province of Quebec.
- C) La création de graves tensions entre le clergé et les dirigeants britanniques de la colonie.
- D) Le rattachement de la vallée de l'Ohio au territoire de la Province of Quebec.

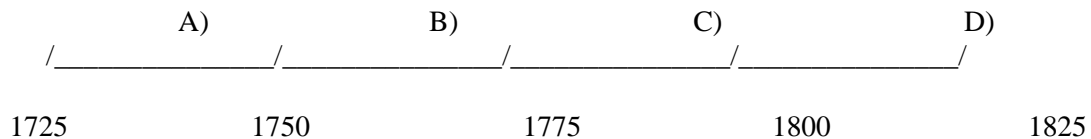
4. Devant l'agitation croissante des Treize colonies, le gouverneur Guy Carleton convainc les autorités de Londres d'accorder, par l'Acte de Québec, certaines concessions à la population de la Province of Quebec.

QUEL OBJECTIF VISAIT LONDRES EN FAISANT CES CONCESSIONS ?

- A) S'assurer de la fidélité des Canadiens à l'Angleterre.
- B) Établir un gouvernement démocratique.
- C) Apaiser la colère des Américains.
- D) Freiner l'émigration des Canadiens aux États-Unis.

5. Le traité de Paris et la Proclamation royale consacrent la réalisation du projet des Britanniques: la conquête de la Nouvelle-France. Les Canadiens sont obligés de s'adapter à cette nouvelle réalité.

SUR LA LIGNE DU TEMPS, QUELLE LETTRE DÉSIGNE LA PÉRIODE QUI CORRESPOND À CE CHANGEMENT D'EMPIRE ?



6. QUEL ENSEMBLE CONTIENT UN ÉLÉMENT DE CONTINUITÉ ET UN ÉLÉMENT DE CHANGEMENT AU LENDEMAIN DE LA CONQUÊTE ?

ÉLÉMENT DE CONTINUITÉ
CHANGEMENT

ÉLÉMENT DE

A) La population française augmente
appelée
grâce à l'immigration.
la Chambre

La population française est
à élire des représentants à
d'assemblée.

B) La population française contrôle
voit interdire
le commerce des fourrures.
catholique.

La population française se
la pratique de la religion

C) La population française s'occupe
dirigée
d'agriculture.
britanniques.

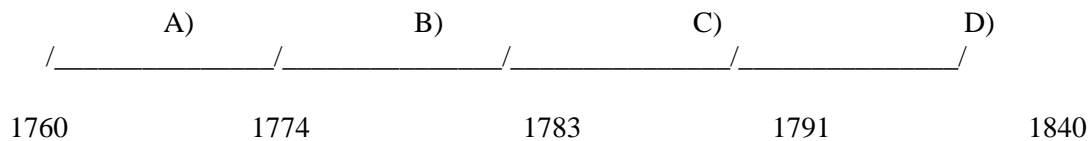
La population française est
par des administrateurs

D) La population française maintient commerce des liens économiques avec la France. américaines.

La population française davantage avec les colonies

7. À QUELLE PÉRIODE DE NOTRE HISTOIRE ASSOCIE-T-ON LES ÉNONCÉS CI-DESSOUS ?

- La France cède le Canada et toutes ses dépendances à l'Angleterre.
- La France conserve les îles Saint-Pierre-et-Miquelon pour la pêche.
- La vallée du Saint-Laurent sera désormais désignée par l'appellation de Province of Quebec.



8. Au lendemain de la Conquête, les autorités britanniques imposent à la population la Proclamation royale et envoient au gouverneur Murray des instructions précises. En imposant ces mesures, les Britanniques souhaitent que la population française et catholique de la Province of Quebec:

1. quitte définitivement le territoire.
 2. se révolte contre l'autorité de l'Église.
 3. obtienne un gouvernement responsable.
 4. accepte les lois et la langue anglaises.
 5. devienne protestante et minoritaire.
- A) 1 et 2 C) 2 et 3
B) 1 et 4 D) 4 et 5

9. L'article ci-dessous est tiré d'un document important de l'histoire canadien: le Traité de Paris.

Article 6

"Le roi de la Grande Bretagne cède les îles de Saint-Pierre et de Miquelon, en toute propriété, à sa Majesté très chrétienne, pour servir d'abri aux pêcheurs français."

CE TRAITÉ MET FIN

- A) à la guerre de la Conquête. C) au régime britannique.
B) à la guerre d'indépendance américaine. D) à la révolte des Patriotes.

10. INDIQUEZ DEUX CONSÉQUENCES DE L'INDÉPENDANCE AMÉRICAINE SUR LA COLONIE DE QUÉBEC.

1. Les Canadiens doivent prêter le serment du Test s'ils veulent participer à la vie politique.
2. La Province of Quebec accueille un grand nombre de Loyalistes.
3. Le commerce des fourrures se déplace vers le nord-ouest.
4. Le régime seigneurial est aboli.
5. Les lois civiles et criminelles anglaises sont rétablies.

- A) 1 et 3
- B) 2 et 3

- C) 2 et 5
- D) 4 et 5

11. QUEL ÉNONCÉ COMPLÈTE LE TABLEAU CI-DESSOUS ET CORRESPOND AU CHANGEMENT POLITIQUE IMPOSÉ PAR LA PROCLAMATION ROYALE AU DÉBUT DU RÉGIME BRITANNIQUE ?

AVANT LA CONQUÊTE
Régime français

APRÈS LA CONQUÊTE
Régime britannique

Les colons sont des sujets du roi de France.

Les colons sont des sujets d'Angleterre.

Les lois civiles et criminelles françaises
anglaises
sont en vigueur.


Les lois civiles et criminelles
sont en vigueur.

Le gouverneur et l'intendant administrent
la colonie.

- A) L'évêque est exclu du Conseil souverain.
- B) La Chambre d'assemblée est élue par la population.
- C) Le gouverneur est élu par les membres du Conseil.
- D) Le gouverneur avec son conseil détient tous les pouvoirs.

12. SUR LA LIGNE DU TEMPS, QUELLE LETTRE DÉSIGNE LA PÉRIODE DE L'HISTOIRE À LAQUELLE CORRESPONDENT LE TEXTE CI-DESSOUS ?

La Province of Quebec est pourvue d'une première constitution qui limite son territoire à la vallée du Saint-Laurent et établit des structures administratives britanniques.



13. TRAITÉ DE PARIS: L'ARTICLE 4

"Sa Majesté Très Chrétienne cède & garantit à Sa dite Majesté Britannique, en toute Propriété, le Canada avec toutes ses Dépendances."

SUR LA LIGNE DU TEMPS CI-DESSOUS, QUELLE LETTRE DÉSIGNE LA PÉRIODE DE L'HISTOIRE À LAQUELLE CORRESPONDENT LE TRAITÉ DE PARIS ?

17. QUELLE EST LA CAUSE DE L'ARRIVÉE DES LOYALISTES DANS LES COLONIES RESTÉES FIDÈLES AU ROI D'ANGLETERRE ?

- A) L'indépendance politique des Treize colonies anglo-américains.
- B) La possibilité de contrôler le commerce du bois.
- C) La conquête de la Nouvelle-France par les Britanniques.
- D) La formation d'une Chambre d'assemblée dans la Province of Quebec.

18. PARMIS LES TEXTES SUIVANTS, LEQUEL EXPRIME UNE CAUSE DE LA DÉFAITE FRANÇAISE LORS DE LA GUERRE DE LA CONQUÊTE ?

- A) L'Angleterre appuie ses colonies et leur envoie un renfort massif de matériel et de soldats.
- B) Des commerçants de la Nouvelle-Angleterre s'installent dans la vallée du Saint-Laurent.
- C) Pour les Canadiens, ce changement de métropole inaugure une nouvelle phase de leur histoire.
- D) Les sujets de la France auront la liberté de la pêche et de la sècherie sur des côtes de l'île de Terre-Neuve.

19. QUELLE CONSTITUTION BRITANNIQUE FIXE LES LIMITES TERRITORIALES DE LA PROVINCE DE QUÉBEC À UN RECTANGLE S'ÉTENDANT SUR LES DEUX RIVES DU SAINT-LAURENT ?

- A) L'Acte de Québec
- B) Traité de Versailles
- C) Traité de Paris
- D) Proclamation royale

20. L'indépendance politique obtenue en 1783 par les Treize colonies anglaises a provoqué des changements dans la Province of Quebec.

DANS CHACUN DES ENSEMBLES CI-DESSOUS, QUEL ÉNONCÉ CORRESPOND À UN DE CES CHANGEMENTS ?

COMMERCE DES FOURRURES

- 1. Les marchands de Montréal conservent leur emprise sur les Grands Lacs et la vallée de l'Ohio.
- 2. Les marchands de Montréal orientent leur activité commerciale vers le Nord-ouest canadien.

POPULATION

- 3. La population anglophone de la Province of Quebec augmente avec l'arrivée des Loyalistes.
- 4. La population anglophone de la Province of Quebec augmente avec l'arrivée d'immigrants irlandais.

TERRITOIRE

5. Le territoire de la Province of Quebec est limité à la vallée du Saint-Laurent.

6. La Province of Quebec perd le territoire situé au sud des Grands Lacs et la vallée de l'Ohio.

A) 1, 3, 5

B) 1, 4, 6

C) 2, 3, 6

D) 2, 4, 5

MODULE 3

*****corrigé*****

1. C

11. D

2. B

12. B

3. B

13. C

4. A

14. D

5. B

15. C

6. C

16. D

7. A

17. A

8. D

18. A

9. A

19. D

10. B

20. B